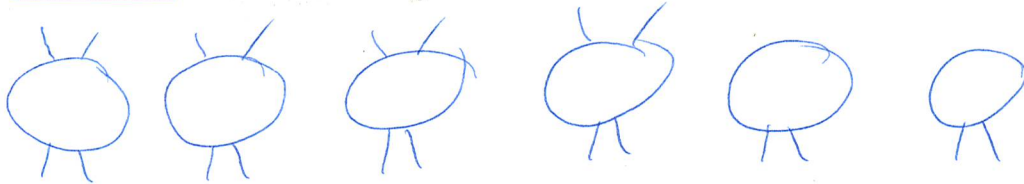


„Tierische“ Aufgaben (zu ZB4, s. 75)




⇒ Zeichne und rechne!

Im Streichelzoo sind ^{4 Beine} Ziegen und ^{2 Beine} Enten. Es sind sechs Tiere. Leon zählt 20 Beine. Wie viele Ziegen und wie viele Enten sind es?




$$16 \text{ B.} + 4 \text{ B.} = 20 \text{ B.} \quad / \quad \text{Es sind } 4 \text{ Ziegen und } 2 \text{ Enten.}$$

Im Stall sind ^{4 Beine} Pferde und ^{8 Beine} Spinnen. Zusammen haben sie 68 Beine. Lea zählt 11 Tiere. Wie viele Pferde und wie viele Spinnen sind es?




$$48 \text{ B.} + 20 \text{ B.} = 68 \text{ B.} \quad / \quad \text{Es sind } 5 \text{ Pferde und } 6 \text{ Spinnen.}$$

Im Stall sind ^{6 B.} Schweine und ^{6 B.} Fliegen. Otto zählt 15 Tiere. Zusammen haben sie 72 Beine. Wie viele Schweine und wie viele Fliegen sind es?



$$36 \text{ B.} + 36 \text{ B.} = 72 \text{ B.} \quad / \quad \text{Es gibt } 6 \text{ Fliegen und } 9 \text{ Schweine.}$$

Auf der Weide sind 19 Tiere. Es sind Kühe und Hühner. Zusammen haben sie 58 Beine. Wie viele Kühe und wie viele Hühner sind es?



$$40 \text{ B.} + 18 \text{ B.} = 58 \text{ B.} \quad / \quad \text{Es sind } 10 \text{ Kühe und } 9 \text{ Hühner.}$$